

**Всероссийская олимпиада школьников по истории**  
**Муниципальный этап**  
**8-й класс**

*Время выполнения работы – до 90 минут (максимум 90 баллов).*

**ЗАДАНИЕ 1.**

Ответьте на вопросы, выбрав **по два** правильных ответа из предложенных пяти вариантов. Запишите ответы через запятую в таблицу.

**Всего баллов за задание – 10.**

1. Что из перечисленного **НЕ** относится к устройству Русского царства XVI–XVII веков?

- А. Тысяцкие.
- Б. Посошное налогообложение.
- В. Местничество.
- Г. Святейший Синод.
- Д. Приказы.

2. Какие города были основаны в XVII веке?

- А. Архангельск.
- Б. Мангазея.
- В. Иркутск.
- Г. Казань.
- Д. Псков.

3. Кто из перечисленных исторических лиц был участником событий Смутного времени?

- А. Василий Голицын.
- Б. Артамон Матвеев.
- В. Богдан Хмельницкий.
- Г. Григорий Отрепьев.
- Д. Иван Заруцкий.

4. Ко времени правления Ивана Грозного относится:

- А. Принятие титула «царь».
- Б. Присоединение Пскова.
- В. Отмена системы кормлений.
- Г. Проект учреждения первого университета.
- Д. Крестоцеловальная запись.

5. С какими государствами Россия вела войны в XVII веке?

- А. Франция.
- Б. Швеция.
- В. Англия.
- Г. Австрия.
- Д. Турция.

1	2	3	4	5

## ЗАДАНИЕ 2.

Согласны ли Вы со следующими утверждениями? Запишите «да» или «нет» в таблицу.  
**Всего баллов за задание – 10.**

1. Первым русским патриархом стал Иона.
2. Алексей Михайлович повелел изгнать из России английских купцов после казни Карла I.
3. Средневековый Новгород делился на Софийскую и Дружинную стороны.
4. Евпатий Коловрат совершил подвиг под Тверью.
5. «Соловецкое сидение» было реакцией на резкое подорожание соли.
6. Шатровый стиль в русском храмовом строительстве возник в XVI веке.
7. Хан Батый был сыном Чингисхана.
8. Мария Тюдор в Англии преследовала католиков.
9. Марраны – это испанские евреи, принявшие христианство.
10. Жан Батист Кольбер проводил политику меркантилизма во Франции.

1	2	3	4	5	6	7	8	9	10

## ЗАДАНИЕ 3.

Установите порядок событий в хронологической последовательности для каждого ряда.  
Запишите последовательность в таблицу в виде ряда цифр.

**Всего баллов за задание – 10.**

### I. События истории Русского царства:

1. Введение выплаты «пожилого».
2. Выход Судебника Ивана Грозного.
3. Увоз новгородского вечевоего колокола в Москву.
4. Утверждение сана патриарха в России.
5. Выпуск печатной книги «Апостол».

### II. События истории Англии XVII века:

1. Казнь Карла I.
2. «Славная Революция».
3. Битва при Нейзби.
4. Работа «Короткого парламента».
5. Оливер Кромвель становится лордом-протектором Англии.

I					
II					

## ЗАДАНИЕ 4.

В ряду понятий укажите лишнее, а затем объясните свой выбор. Ответ запишите в отведённых строках. **Всего баллов за задание – 12.**

4.1. Барокко, рококо, классицизм, меркантилизм \_\_\_\_\_

\_\_\_\_\_

4.2. Смерды, закупы, тверичи, рядовичи \_\_\_\_\_

\_\_\_\_\_

\_\_\_\_\_


4.3. Тюфяк, шестопёр, пищаль, ручница \_\_\_\_\_

4.4. Тан, Мин, Цин, Токугава \_\_\_\_\_


**ЗАДАНИЕ 5.**

Внимательно рассмотрите изображения православных храмов Архангельского Севера и выполните задание. **Всего баллов за задание – до 15.**

1.




2.



3.



4.



5.



Соотнесите название храма с номером его изображения. Укажите в таблице местонахождение храма и век его постройки.

Название храма	Номер изображения	Место нахождения храма	Век постройки
Церковь преподобных Зосимы, Савватия и Германа			
Собор Введенского мужского монастыря			
Церковь Вознесения Господня на Секирной горе (церковь-маяк)			
Собор Рождества Христова (Христорождественский собор)			
Церковь иконы Божией Матери «Одигитрия»			

### ЗАДАНИЕ 6.

Установите правильное соответствие. Запишите ответы в таблицу.

**Всего баллов за задание – 10.**

I. Соотнесите исторические явления и государства, чьей истории они принадлежат.

1. «Круглоголовые»	А. Франция
2. Гайдуки	Б. Англия
3. Гугеноты	В. Польша
4. Волостель	Г. Болгария
5. Сейм	Д. Россия

II. Соотнесите событие и год, в который оно произошло.

1. Медный бунт	А. 1618 г.
2. Деулинское перемирие	Б. 1632 г.
3. Казнь Степана Разина	В. 1662 г.
4. Начало Смоленской войны	Г. 1671 г.
5. В.В. Атласов отправился в поход на Камчатку	Д. 1697 г.

	<b>1</b>	<b>2</b>	<b>3</b>	<b>4</b>	<b>5</b>
<b>I</b>					
<b>II</b>					

**ЗАДАНИЕ 7.**

Вспомните, в связи с какими историческими событиями возникли эти крылатые выражения? Что они означают? Запишите ответы в таблицу.

**Всего баллов за задание – 10.**

1. «Филькина грамота».
2. «Как Мамай прошёл».
3. «Вот тебе, бабушка, и Юрьев день!»
4. «Деньги не пахнут».
5. «Кричать во всю Ивановскую».

<b>Фраза</b>	<b>Историческая подоплёка</b>	<b>Значение</b>
1		
2		
3		
4		

5		
---	--	--

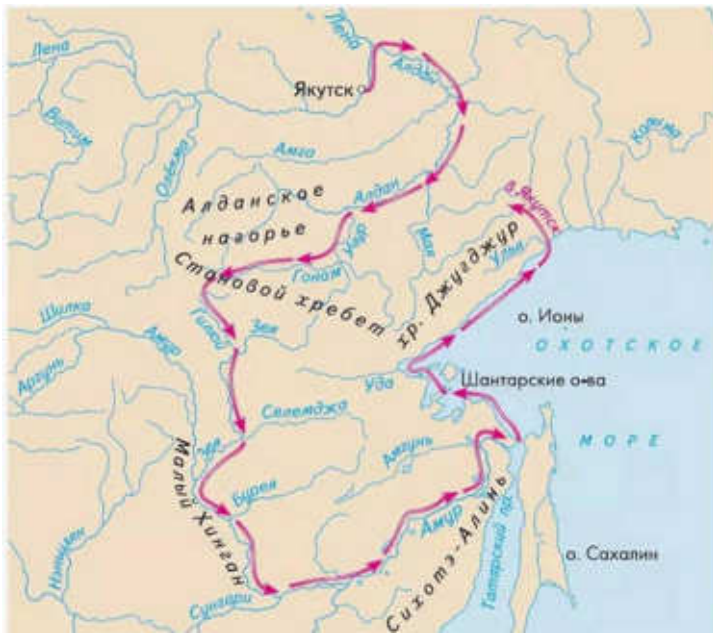
**ЗАДАНИЕ 8.**

Рассмотрите карты путешествий и походов XVII века, выполните задания.

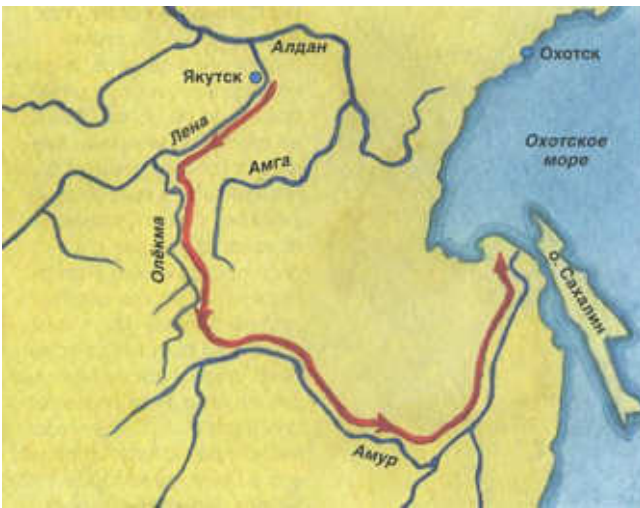
**Всего баллов за задание – 13.**



3.



4.



5.



1. Заполните таблицу. Запишите номера карт напротив путешественников, возглавлявших соответствующий поход.

<b>Карта</b>	<b>Путешественник</b>
	Иван Москвитин
	Семён Дежнёв и Федот Попов
	Ерофей Хабаров
	Василий Поярков
	Владимир Атласов

2. Какое из перечисленных путешествий было самым ранним, а какое – самым поздним по времени? Ответ укажите в виде номера карты.

Самое раннее: \_\_\_\_\_

Самое позднее: \_\_\_\_\_

3. Какие путешественники из списка были родом из северных земель (современные Архангельская и Вологодская области)?

**Ответ:** \_\_\_\_\_

\_\_\_\_\_

3. Почему в XVII веке многие мореплаватели и землепроходцы имели северное происхождение? Выделите две причины.

**Ответ:** \_\_\_\_\_

\_\_\_\_\_

\_\_\_\_\_

\_\_\_\_\_

\_\_\_\_\_

\_\_\_\_\_